

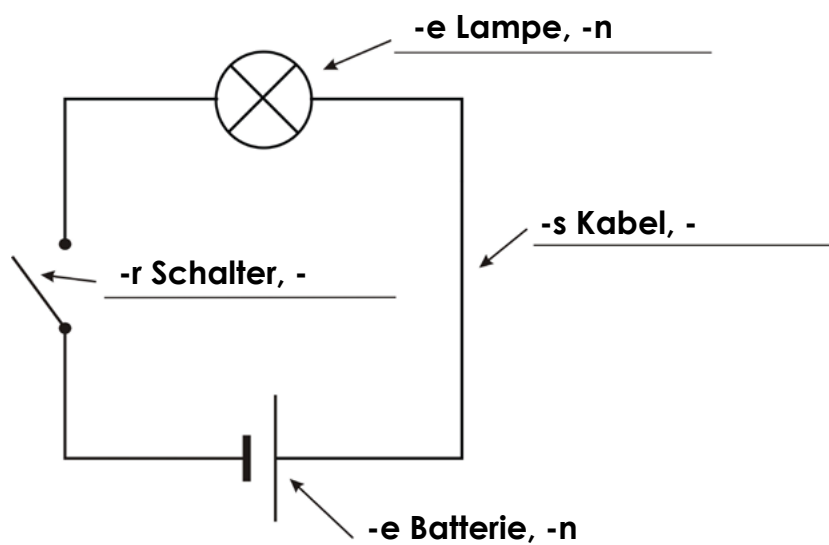

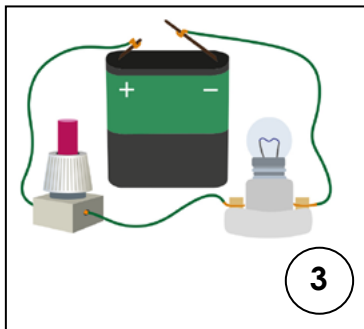
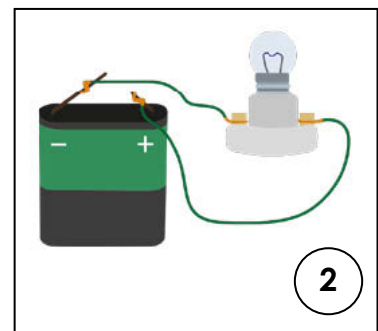

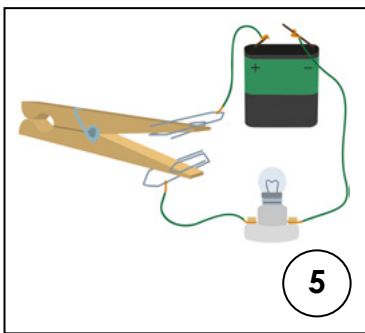
## A1.2 Ein- und Ausschalten (Lösungsblatt)

### Wortgeländer

1. heraus/suchen – Materialien – für den Versuch
2. auf/bauen – Stromkreis – **Batterie**, zwei **Kabel**, **Lampe**
3. ein/bauen – **Schalter** – Stromkreis
4. auf/bauen – Schalter – Wäscheklammer und zwei Büroklammern
5. ersetzen – Schalter im Stromkreis – selbstgebauter Schalter

**1. Übung:** Trage die Fachbegriffe aus den Wortgeländern in die Schaltskizze ein.

**2. Übung:** Bringe die Bilder in die richtige Reihenfolge. Schreibe dazu die Zahlen 1 – 5 aus den Wortgeländern unter die Bilder.



**3. Übung:** Beschreibe das Experiment mithilfe der Wortgeländer.

1. Ich suche die Materialien für den Versuch heraus.
2. Ich baue den Stromkreis aus einer Batterie, zwei Kabeln und einer Lampe auf.
3. Ich baue den Schalter in den Stromkreis ein.
4. Ich baue einen Schalter aus einer Wäscheklammer und zwei Büroklammern auf.
5. Ich ersetze den Schalter im Stromkreis durch den selbstgebauten Schalter.